



検定だより

2019年 1月号



2019年1月
NY育英学園検定事務局

特集：数学検定

今月号では、2018年度第2回の各種検定の合格者を発表いたします。
合格された皆さん、おめでとうございます。

2018年度第2回各種検定合格者(漢字検定・数学検定・日本語検定)



全日制小学部表彰の様子



サンデースクール
表彰の様子



サタデーM校
表彰の様子

*学年・所属は検定受験(受験)時



は満点合格表彰



は家族合格表彰

漢字検定

- | | | | |
|-----|---------------------|-------------------|--|
| 6級 | 林 晴仁 (Sat NJ 小5) | 藤田 めい (Sat NJ 小5) | |
| 8級 | 稗田 美杏 (Sat NJ 小4) | 藤田 丈 (Sat NJ 小4) | |
| | 石原 果歩 (Sat NJ 小3) | 笠間 リズ (全日制小2) | |
| 9級 | 秋山 悠那 (全日制小3) | 有馬 優一郎 (全日制小3) | |
| | 福居 篤 (全日制小3) | 藤田 杏 (Sat NJ 小3) | |
| | モイ栗田トーマス(Sun 小3) | 鷲尾 舞子 (Sun 小3) | |
| | 杉山 アリッサ (Sat PW 小2) | | |
| 10級 | 田中 結 (Sat NJ 小3) | 窪 理羽 (全日制小2) | |

数学検定

- | | |
|-----|--------------------|
| 準2級 | 原 大和 (Sat NJ 中2) |
| 9級 | 堀 花音 (全日制小4) |
| | フロスト莉菜 (Sat NJ 小4) |
| | 安永 恵深 (全日制小3) |
| | 矢内 航貴 (全日制小2) |
| 10級 | 矢内 航貴 (全日制小2) |
| 11級 | 青松 向大朗 (全日制小2) |
| | 窪 理羽 (全日制小2) |

日本語検定

- 7級 グッドマンあみり (SatM小3)

2018年度第3回 各種検定 本試験・模擬試験スケジュール

本試験			模擬試験	
試験日	申込期間	会場	試験日	会場
実用英語技能検定試験			英検模擬試験は1次のみ	
1次 2019年1月26日(土)	申込締切済	Lehman College, Carman Hall	模擬試験終了	
2次 2019年2月24日(日)		Holiday Inn Hasbrouck Heights		
漢字能力検定				
2019年1月12日(土)	本試験終了		模擬試験終了	
実用数学技能検定				
2019年2月17日(日)	申込締切済	NY育英学園 NJ ヲバリス	2019年2月9日(土)	NY育英学園 NJ ヲバリス
書写検定 Sat M校は硬筆3~5級、Sat PW校は硬筆3~5級、毛筆5級のみ				
2019年1月26日(土)	申込締切済	NY育英学園 NJ ヲバリス Sat M校/ Sat PW校 Friends Academy	模擬試験終了	
TOEIC				
2019年3月2日(土)	~2/16/2019	りんごラーニングセンター 表校 NY育英学園 NJ ヲバリス	りんごラーニングセンターでは、毎週火曜・水曜に TOEICクラスを開講しています。	

1+2-3×4+5+6-7×8+9-0
+3
×5
-7
+9
+0+9-8×7+6+5-4×3+2-1

裏面で数学検定の
試験問題を特集
します。
みんなで挑戦して
ください。

漢字検定過去問題 答え
11級 1. ㉞ 2. ㉟
8級 1. 4.7点 2. 0.5点
7級 1. ㉞ 2. ㉟
4級 1. 1.8840cm³
2. 6840cm³

実施日:2019年2月17日(日曜日)
 受験会場:ニューヨーク育英学園ニュージャージーキャンパス

区分	検定級	集合時間	検定時間
一次試験 計算技能	準1, 2, 準2, 3, 4, 5	AM 8:45	AM 9:00~10:00
二次試験 数理技能	準1	AM 10:10	AM 10:15~12:15
	2, 準2		AM 10:15~11:45
	3, 4, 5		AM 10:15~11:15
区分なし 一次 二次	1部	AM 8:45	7 AM 9:00~9:50
	9, 11, シルバースター		AM 9:00~9:40
	2部	AM 10:05	6, 8 AM 10:15~11:05
			10, ゴールドスター

検定についてのお問い合わせは検定事務局(りんごラーニングセンター
 電話201-947-4707)または、kentei.nyikuei@gmail.com (担当: 舛田) まで。

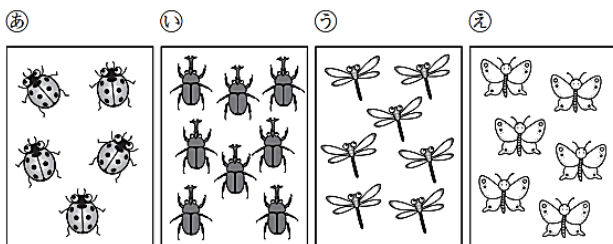
2018年度第2回の数学検定から、かずかたち検定(ゴールドスター、シルバースター)と11級から6級まで(1次・2次区分のない試験級)で、隣接する2つの級の併願受験が可能になりました。

それに伴い、これまで一律に9時から開始していた試験時間を1部、2部に区分して実施いたします。

受験者の皆様は、受験票に記載されている1部、2部の区分をよく確認し、お間違えないよう、正しい試験時間にお越しください。

11級(小学校1年程度)

下のえを見て、つぎのもんだいに答えましょう。



- かずが7よりおおいものはどれですか。
 ㉑から㉔の中から1つえらびましょう。
- かずがいちばんすくないものはどれですか。

8級(小学校4年程度)

フィギュアスケートのえんぎの1つにジャンプがあり、種類によってきじゅん点がつけられています。成功するとそのきじゅん点が得点にたされます。回転数が足りなくて失敗しても、回転不足点(ひく)がたされることがあります。下の表は、ジャンプの種類ときじゅん点と回転不足点をまとめたものです。これについて、次の問題に答えましょう。



ジャンプの種類	きじゅん点	回転不足点
シングル・トゥループ	0.4	0.3
シングル・ルッツ	0.6	0.5
ダブル・フリップ	1.9	1.4
トリプル・トゥループ	4.3	3.0

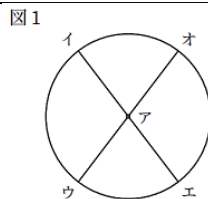
- シングル・トゥループとトリプル・トゥループを1回ずつ成功させると、得点は合わせて何点たされますか。
- ダブル・フリップの回転不足点は、きじゅん点より何点低いですか。

7級(小学校5年程度)

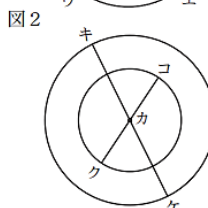
次の問題に、下の①から⑤までの中からもっとも適切なものを1つ選んで、その番号で答えましょう。

- ①正方形 ②長方形 ③ひし形 ④平行四辺形 ⑤台形

1. 図1のように、点アを中心とする円があります。直線イエ、ウオは、この円の直径です。4点イ、ウ、エ、オを頂点とする四角形はどれですか。

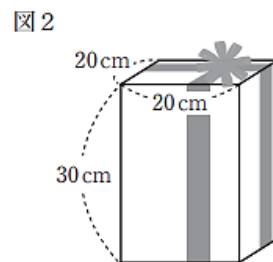


2. 図2のように、点カを中心とする大きい円と小さい円があります。直線キケは大きい円の直径で、直線クコは小さい円の直径です。4点キ、ク、ケ、コを頂点とする四角形はどれですか。



4級(中学校2年程度)

ひかりさんは、お父さんとお母さんの2人から誕生日プレゼントをもらいました。プレゼントは、図1、図2のような箱に入っていて、それぞれ円柱と直方体として考えます。このとき、次の問いに単位をつけて答えなさい。ただし、円周率は3.14とします。



- 円柱の体積は何 cm^3 ですか。
- 円柱の体積は、直方体の体積より何 cm^3 大きいですか。

どうでしたか。答えはこの検定だよりの表のページの下の方にあります。上下逆さにして見てください。それでは、来月号もお楽しみに!